

ESCOLA: _____

NOME: _____

PROFESSOR: _____ DATA: ___/___/___



UNIVERSO


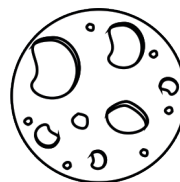


O universo é o conjunto de todos os corpos celestes, ou seja, estrelas, planetas, cometas, etc.

1 - Responda:


a) Qual o nome do planeta em que vivemos?

Terra



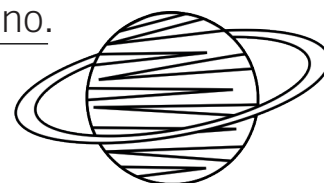
b) De onde vem a luz que a Terra recebe?

A luz natural que ilumina nosso planeta é produzida pelo astro chamado de sol.



c) Quais são os planetas que fazem parte do Sistema Solar?

De forma geral, são os oito planetas do sistema solar: Mercúrio, Vênus, Terra, Marte, Júpiter, Saturno, Urano, Netuno.




d) De que é coberto a maior parte da superfície da Terra?

71% da superfície da Terra é coberta por água.

e) Quanto tempo a Terra leva para dar uma volta ao redor de si mesma?

Essa volta em torno de si mesma demora aproximadamente um dia (23 horas, 56 minutos e 4,1 segundos, para ser exato).



f) Qual é o nome deste movimento?

Rotação



g) Quanto tempo a Terra leva para dar uma volta em torno do Sol?

Esse movimento leva 365 dias (mais 5 horas, 45 minutos e 46 segundos) para ser completo.



h) Qual é o nome deste movimento?

Translação.


ESCOLA: _____

NOME: _____

PROFESSOR: _____ DATA: ___/___/___



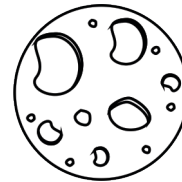
UNIVERSO



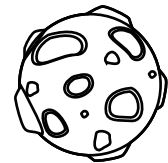
O universo é o conjunto de todos os corpos celestes, ou seja, estrelas, planetas, cometas, etc.

1 - Responda:

a) Qual o nome do planeta em que vivemos?




b) De onde vem a luz que a Terra recebe?



c) Quais são os planetas que fazem parte do Sistema Solar?

d) De que é coberto a maior parte da superfície da Terra?



e) Quanto tempo a Terra leva para dar uma volta ao redor de si mesma?

f) Qual é o nome deste movimento?



g) Quanto tempo a Terra leva para dar uma volta em torno do Sol?

h) Qual é o nome deste movimento?

